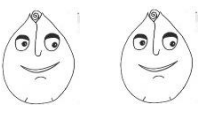

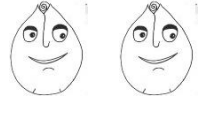





| | | |
|--|--|---|
| ČJ  | Slabikář do str. 87 Bezpečně čtu slova a věty s Ď, ť, ň. Děním slova do slabik. |  |
| PSANÍ  | Písanka do str. 12 Píšu psacím písmem r. Píšu diktát vázaným písmem. |  |
| M  | Matematika do str. 93 Hledám chybu v příkladu. Počítám s mincemi. |  |
| SKN  | Prvouka do str. 71 Pečuji o své zuby. Vyprávím, jak se chovám při nemoci. |  |
| AJ  | Unit 10/ lesson 1 Pojmenuji oblíbené činnosti ve třídě i venku. |  |

1. Dokonči věty.

Malá loď je _____

Malá síť je _____

Mláděta od kočky jsou _____

Velká zídka je _____

2. Hádej, napiš na linku.

Čtyři kola a pár očí,
 pátým kolem člověk točí.
 Co je to?



Který ptáček
 nosí fráček?



3. Napiš název stromu, na kterém roste toto ovoce.

(slivoň, hrušeň, třešeň, jabloň)



4. Odděl od sebe slova čárou. Jedno slovo si vyber a napiš je na linku.

DLAŇSTRÁŇSÍŤRTUŤLOŤTRAŤSÁŇKY

PLEŤPEČEŤLABUŤPLZEŇLAŇPOUŠŤ

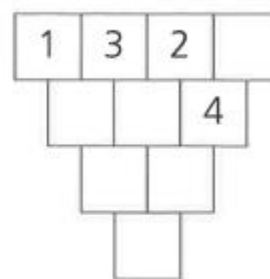
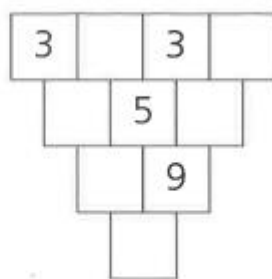
KAŇKASKŘÍŇTŮŇCHUŤTAŤKAŤAPEMÉŤA

5. Právě mám rozečtenou tuto knihu: _____

KOLIK PUNTÍKŮ JE POD KAŇKOU?



DOPLŇ ČÍSLA



VYŘEŠ

$$6 + 4 = \square + 7$$

$$7 + 5 = 10 + \square$$

$$20 - 10 = \square - 4$$

$$13 - \square = 6 - 2$$

$$\square + 9 = 1 + 12$$

$$16 + \square = 9 + 9$$

$$20 - 8 = \square - 5$$

$$19 - \square = 6 + 4$$

$$20 - 5 = \square + 9$$

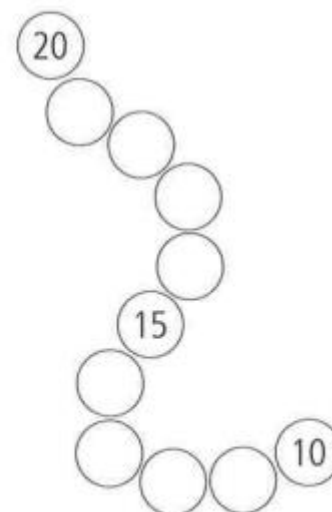
$$2 + 6 = 16 - \square$$

$$10 + 3 = \square - 7$$

$$16 - \square = 0 + 6$$

$$\square - 1 = 8 - 3$$

$$6 + \square = 20 - 9$$



? MYSLEL JSEM SI ČÍSLO, K NĚMU JSEM PŘIČETL 5 A TEĎ MÁM ČÍSLO 12. KTERÉ ČÍSLO JSEM SI MYSLEL?

? MYSLEL JSEM SI ČÍSLO, OD NĚJ JSEM ODEČETL 4 A TEĎ MÁM ČÍSLO 7. KTERÉ ČÍSLO JSEM SI MYSLEL?

- Hádanky <https://www.skolasnahledem.cz/game/1381?query=562%20013>

- Navlékám korálky <https://www.skolasnahledem.cz/game/2406?query=544%20025>

- Péče o zuby <https://www.skolasnahledem.cz/game/1913>

